

Exercices du chapitre I - Corrections

Exercice 1 – Calculer les dérivées partielles des fonctions suivantes :

f	$\partial f / \partial x$	$\partial f \partial y$	$\partial f \partial z$
$3x - 8y + 4$	3	-8	--
$4x^2 - 5y^2 + 5/x - 2$	$8x - 5/x^2$	-10y	--
$3x^2y^4z$	$6xy^4z$	$12x^2y^3z$	$3x^2y^4$
$-x^2y + 3xy + 8xy^2 - 1$	$-2xy + 3y + 8y^2$	$-x^2 + 3x + 16xy$	--
$\sqrt{3x + 2y}$	$\frac{3}{2\sqrt{3x+2y}}$	$\frac{1}{\sqrt{3x+2y}}$	--
x/y	$1/y$	$-x/y^2$	--
$e^{x/y}$	$(1/y)e^{x/y}$	$-x/y^2 e^{x/y}$	--
$\ln(xy)$	$1/x$	$1/y$	--
$\sin(x - 4y)e^{x^3y}$	$\cos(x - 4y)e^{x^3y}$	$-4 \cos(x - 4y)e^{x^3y}$	--
	$+3x^2y \sin(x - 4y)e^{x^3y}$	$+x^3 \sin(x - 4y)e^{x^3y}$	
$\cos(x^2y)\ln(1 + x^2 + y^3)$	$-2xy \sin(x^2y)\ln(1 + x^2 + y^3)$	$-x^2 \sin(x^2y)\ln(1 + x^2 + y^3)$	
	$+ \frac{2x \cos(x^2y)}{1+x^2+y^3}$	$+ \frac{3y^2 \cos(x^2y)}{1+x^2+y^3}$	

Exercice 2 – On considère la fonction suivante: $f(x, y) = x \cos(xy) + 2$

1. Calculer les dérivées partielles de f

$$\begin{aligned} \frac{\partial f(x, y)}{\partial x} &= \frac{\partial x}{\partial x} \cos(xy) + x \frac{\partial \cos(xy)}{\partial x} & \frac{\partial f(x, y)}{\partial y} &= x \frac{\partial \cos(xy)}{\partial y} \\ \frac{\partial f(x, y)}{\partial x} &= \cos(xy) - xy \sin(xy) & \frac{\partial f(x, y)}{\partial y} &= -x^2 \sin(xy) \end{aligned}$$

2. Donner une équation du plan tangent à la surface représentant f au dessus du point $(1, \pi/2) =$ donner une équation du plan tangent à la surface représentant f au point $(x_0, y_0, z_0) = (1, \pi/2, 2)$ ($z_0 = f(x_0, y_0) = 2$):

$$\begin{aligned} (x - x_0) \frac{\partial f}{\partial x}(x_0, y_0) + (y - y_0) \frac{\partial f}{\partial y}(x_0, y_0) - (z - z_0) &= 0 \\ (x - 1) \left(-\frac{\pi}{2}\right) + \left(y - \frac{\pi}{2}\right) (-1) - (z - 2) &= 0 & \text{car } \frac{\partial f}{\partial x}(1, \pi/2) &= -\pi/2 \text{ et } \frac{\partial f}{\partial y}(1, \pi/2) &= -1 \\ -(x + y + z) + \pi + 2 &= 0 \\ x + y + z &= \pi + 2 \end{aligned}$$

Exercice 3 –

1. $j(x, y) = u^2 \cos(v)$ où $u = 2x + y$ et $v = \ln x - y$

$$\frac{\partial j}{\partial x} = \frac{\partial j}{\partial u} \frac{\partial u}{\partial x} + \frac{\partial j}{\partial v} \frac{\partial v}{\partial x}$$

$$\frac{\partial j}{\partial x} = [2u \cos(v)] [2] + [-u^2 \sin v] \left[\frac{1}{x} \right]$$

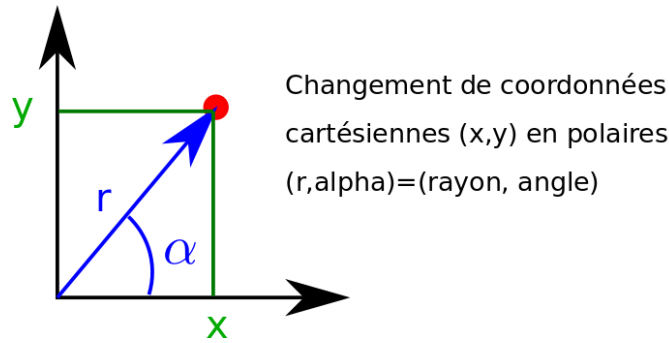
$$\frac{\partial j}{\partial x} = 4(2x + y) \cos(\ln x - y) + -\frac{(2x+y)^2}{x} \sin(\ln x - y)$$

2. Soit la fonction $f(x, y) = e^x \sin y$. Nous allons faire le changement des coordonnées cartésiennes (x, y) en coordonnées polaires (r, α) : $x(r, \alpha) = r \cos(\alpha)$, $y(r, \alpha) = r \sin(\alpha)$ (voir figure en dessous) et obtenir $F(r, \alpha) = f(x(r, \alpha), y(r, \alpha))$:

$$F(r, \alpha) = f(x(r, \alpha), y(r, \alpha))$$

$$F(r, \alpha) = e^{x(r, \alpha)} \sin(y(r, \alpha))$$

$$F(r, \alpha) = e^{r \cos(\alpha)} \sin(r \sin(\alpha))$$



On obtient,

$$\begin{aligned} \frac{\partial F(r, \alpha)}{\partial r} &= \frac{\partial e^{r \cos(\alpha)}}{\partial r} \sin(r \sin(\alpha)) + e^{r \cos(\alpha)} \frac{\partial \sin(r \sin(\alpha))}{\partial r} \\ &= (e^{r \cos(\alpha)})' \frac{\partial r \cos(\alpha)}{\partial r} \sin(r \sin(\alpha)) + e^{r \cos(\alpha)} (\sin(r \sin(\alpha)))' \frac{\partial r \sin(\alpha)}{\partial r} \\ &= e^{r \cos(\alpha)} \cos(\alpha) \sin(r \sin(\alpha)) + e^{r \cos(\alpha)} \cos(r \sin(\alpha)) \sin(\alpha) \\ &= e^{r \cos(\alpha)} (\cos(\alpha) \sin(r \sin(\alpha)) + \sin(\alpha) \cos(r \sin(\alpha))) \\ &= e^{r \cos(\alpha)} \sin(\alpha + r \sin(\alpha)) \end{aligned}$$

$$\begin{aligned} \frac{\partial F(r, \alpha)}{\partial \alpha} &= \frac{\partial e^{r \cos(\alpha)}}{\partial \alpha} \sin(r \sin(\alpha)) + e^{r \cos(\alpha)} \frac{\partial \sin(r \sin(\alpha))}{\partial \alpha} \\ &= (e^{r \cos(\alpha)})' \frac{\partial r \cos(\alpha)}{\partial \alpha} \sin(r \sin(\alpha)) + e^{r \cos(\alpha)} (\sin(r \sin(\alpha)))' \frac{\partial r \sin(\alpha)}{\partial \alpha} \\ &= -e^{r \cos(\alpha)} r \sin(\alpha) \sin(r \sin(\alpha)) + e^{r \cos(\alpha)} \cos(r \sin(\alpha)) r \cos(\alpha) \\ &= r e^{r \cos(\alpha)} (-\sin(\alpha) \sin(r \sin(\alpha)) + \cos(r \sin(\alpha)) \cos(\alpha)) \\ &= r e^{r \cos(\alpha)} \cos(\alpha + r \sin(\alpha)) \end{aligned}$$

Exercice 4 – Soit la fonction $f(x, y) = \frac{y}{x^2+1}$.

1. On détermine $\vec{\text{grad}} f(x, y) = \left(\frac{\partial f}{\partial x}(x, y), \frac{\partial f}{\partial y}(x, y) \right) = \frac{\partial f}{\partial x}(x, y) \vec{i} + \frac{\partial f}{\partial y}(x, y) \vec{j}$, si \vec{i} et \vec{j} sont respectivement les vecteurs normés de l'axe des x et de l'axe des y .

On obtient:

$$\frac{\partial f}{\partial x}(x, y) = \frac{-2xy}{(x^2 + 1)^2} \quad \frac{\partial f}{\partial y}(x, y) = \frac{1}{x^2 + 1}$$

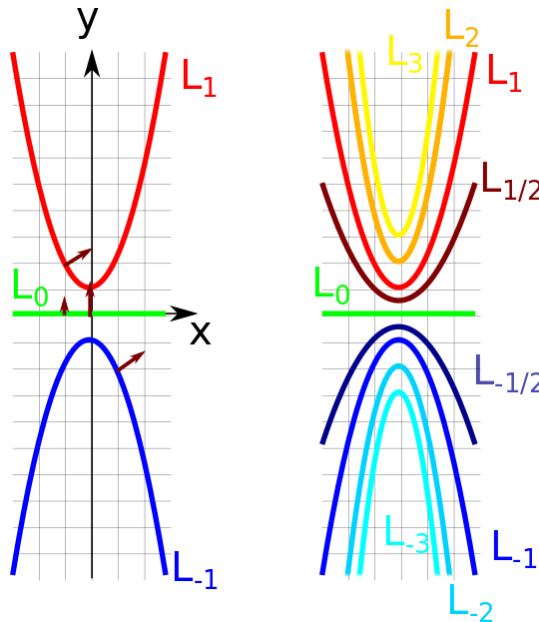
D'où,

$$\overrightarrow{\text{grad}}f(x, y) = \left(\frac{-2xy}{(x^2 + 1)^2}, \frac{1}{x^2 + 1} \right)$$

2. La ligne de niveaux L_a pour une valeur a représente l'ensemble des points (x, y) telles que $f(x, y) = a$
 $\iff L_a = \{(x, y) \in \mathbb{R}^2 | f(x, y) = a\}$. Ainsi (voir la figure):

- $(x, y) \in L_0 \iff f(x, y) = 0 \iff \frac{y}{x^2+1} = 0 \iff y = 0$. $\frac{1}{x^2+1}$ ne sera en effet jamais nul car $\forall x \in \mathbb{R}, \frac{1}{x^2+1} \in]0, 1]$ (Pour finir de se convaincre si $\exists x_0 \in \mathbb{R}, \frac{1}{x_0^2+1} = 0$, alors $\frac{1}{x_0^2+1} = 0 \iff \frac{1}{x_0^2+1}(x_0^2 + 1) = 0 \cdot (x_0^2 + 1) \iff 1 = 0$, ce qui est impossible et constitue une démonstration par l'absurde). L_0 s'identifie donc à l'axe des x (vert).
- $(x, y) \in L_1 \iff f(x, y) = 1 \iff \frac{y}{x^2+1} = 1 \iff y = (x^2 + 1)$, ce qui décrit une parabole (rouge).
- $(x, y) \in L_{-1} \iff f(x, y) = -1 \iff \frac{y}{x^2+1} = -1 \iff y = -(x^2 + 1)$, ce qui décrit une parabole (bleu).

Plus généralement, on peut remarquer que pour avoir $f(x, y) = a$, cela revient à avoir $y = a(x^2 + 1)$. Les lignes de niveaux seront donc toutes des paraboles, la ligne L_0 pour $a = 0$ s'identifiant à l'axe des x .



3. On note que: $(0, 0) \in L_0$, $(-1, 0) \in L_0$, $(-1, 2) \in L_1$ et $(1, -2) \in L_{-1}$. Les gradients en ces points sont donc orthogonaux aux lignes de niveaux respectives et pointent en direction d'une croissance de f . Pour avoir également la norme du gradient qui représente l'intensité de la variation de f , le calcul donne:

- $\overrightarrow{\text{grad}}f(0, 0) = (0, 1)$ $\overrightarrow{\text{grad}}f(-1, 0) = (0, \frac{1}{2})$

- $\overrightarrow{\text{grad}}f(-1, 2) = (1, \frac{1}{2})$ $\overrightarrow{\text{grad}}f(1, -2) = (1, \frac{1}{2})$

Graphiquement, plus les lignes de niveaux (espacées d'un même écart de valeur, par exemple L_1, L_2, L_3 qui sont espacées de 1) sont rapprochées, plus le gradient va avoir une norme forte (=forte croissance de f pour passer d'une valeur à l'autre).

Exercice 5 –

- On considère la fonction $f_1(x, y) = x^2 \ln(y) + 2 \frac{\cosh(x)}{\sinh(y)} + x \sin(y^2 - 1) + 2$. Ses dérivées partielles sont:

$$\frac{\partial f_1(x, y)}{\partial x} = \frac{\partial x^2}{\partial x} \ln(y) + \frac{2}{\sinh(y)} \frac{\partial \cosh(x)}{\partial x} + \frac{\partial x}{\partial x} \sin(y^2 - 1)$$

$$\frac{\partial f_1(x, y)}{\partial x} = 2x \ln(y) + \frac{2 \sinh(x)}{\sinh(y)} + \sin(y^2 - 1)$$

$$\frac{\partial f_1(x, y)}{\partial y} = x^2 \frac{\partial \ln(y)}{\partial y} + 2 \cosh(x) \frac{\partial (\sinh(y))^{-1}}{\partial y} + x \frac{\partial \sin(y^2 - 1)}{\partial y}$$

$$\frac{\partial f_1(x, y)}{\partial y} = \frac{x^2}{y} - \frac{2 \cosh(x) \cosh(y)}{\sinh^2(y)} + 2xy \cos(y^2 - 1)$$

- On considère la fonction $f(x, y) = e^{x^2+y^2}$. Le gradient de f en (x, y) est,

$$\overrightarrow{\text{grad}}f(x, y) = \left(\frac{\partial f(x, y)}{\partial x}, \frac{\partial f(x, y)}{\partial y} \right)$$

$$\overrightarrow{\text{grad}}f(x, y) = \left(\frac{\partial e^{x^2}}{\partial x} e^{y^2}, e^{x^2} \frac{\partial e^{y^2}}{\partial y} \right)$$

$$\overrightarrow{\text{grad}}f(x, y) = (2xe^{x^2+y^2}, 2ye^{x^2+y^2})$$

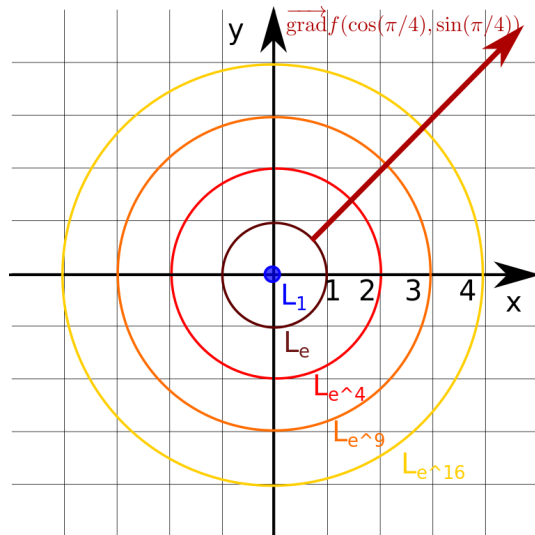
Pour tracer les lignes de niveau L_0, L_1, L_{e^4} , déterminons d'abord leurs équations:

- $(x, y) \in L_0 \iff f(x, y) = 0 \iff e^{x^2+y^2} = 0 =$ impossible, la fonction exponentielle e^u ne peut pas prendre 0 comme valeur, quel que soit la valeur de u . L_0 est l'ensemble vide, elle ne contient aucun point.
- $(x, y) \in L_1 \iff f(x, y) = 1 \iff e^{x^2+y^2} = 1 \iff \ln(e^{x^2+y^2}) = \ln(1) \iff x^2 + y^2 = 0 \iff (x, y) = (0, 0)$. L_1 est réduit à un point $(0, 0)$ (=le cercle de rayon 0 autour de l'origine $(0, 0)$).
- $(x, y) \in L_{e^4} \iff f(x, y) = e^4 \iff e^{x^2+y^2} = e^4 \iff \ln(e^{x^2+y^2}) = \ln(e^4) \iff x^2 + y^2 = 4$. L_{e^4} est le cercle de rayon 2 autour de l'origine $(0, 0)$.

Plus généralement, on peut remarquer que pour avoir $f(x, y) = a$, cela revient à avoir $x^2 + y^2 = \ln(a)$. Comme $x^2 + y^2 \geq 0$ ¹, les lignes de niveaux différentes de l'ensemble vide sont donc les lignes de niveaux pour lesquelles $a \geq 1$ tel que $x^2 + y^2 = \ln(a) \geq 0$ et s'identifient à des cercles de rayon $\sqrt{\ln(a)}$ autour de l'origine.

¹Et $x^2 + y^2 = 0 \iff (x, y) = (0, 0)$. En effet, $(x, y) = (0, 0) \implies x^2 + y^2 = 0$ est immédiat. Démontrons $x^2 + y^2 = 0 \implies (x, y) = (0, 0)$: On suppose $\exists(x_0, y_0) \in \mathbb{R}^* \times \mathbb{R}, x_0^2 + y_0^2 = 0$, alors $x_0^2 + y_0^2 \geq x_0^2 > 0$ (car $\forall y \in \mathbb{R}, y^2 \geq 0$), ce qui est impossible car $x_0^2 + y_0^2 = 0$, donc il n'existe pas de tel (x_0, y_0) .

On peut remarquer que, contrairement à l'exercice 4, les gradients sur une ligne de niveau donnée $((x, y) \in L_a \implies x^2 + y^2 = \ln(a))$ ont tous la même norme ($= 2\sqrt{x^2 + y^2}e^{x^2+y^2} = 2a\sqrt{\ln(a)}$). Sur le graphique, leur direction est donnée par la normale à la tangente qui pointe vers les valeurs croissantes de f .



Exercice 6 – Le point de coordonnées $(3, -1)$ appartient à la ligne L_{10} de la fonction f et $\overrightarrow{\text{grad}}f(3, -1) = 2\vec{i} - \vec{j}$.

1. L'équation de la tangente à la ligne de niveau 10 au point $(3, -1)$ s'écrit (voir fiche):

$$(x - 3) \frac{\partial f}{\partial x}(3, -1) + (y + 1) \frac{\partial f}{\partial y}(3, -1) = 0$$

Comme $\overrightarrow{\text{grad}}f(3, -1) = \frac{\partial f}{\partial x}(3, -1)\vec{i} + \frac{\partial f}{\partial y}(3, -1)\vec{j} = 2\vec{i} - \vec{j}$, alors on obtient comme équation de la tangente à la ligne de niveau 10 au point $(3, -1)$:

$$\begin{aligned} 2(x - 3) - (y + 1) &= 0 \\ 2x - y - 7 &= 0 \end{aligned}$$

On peut aussi remarquer que l'équation de la tangente à la ligne de niveau 10 au point $(3, -1)$ peut aussi être formulée comme: $\overrightarrow{\text{grad}}f(3, -1) \cdot \overrightarrow{\Delta x}$, avec $\overrightarrow{\Delta x} = (x - 3)\vec{i} + (y + 1)\vec{j}$, et dériver son expression en fonction de x et y de là.

2. Le point $(x_0, y_0) = (3, -1)$ appartient à la ligne de niveau L_{10} et donc $z_0 = f(x_0, y_0) = 10$. L'équation cartésienne du plan tangent à la surface représentative de f au point $(x_0, y_0) = (3, -1)$ est donc:

$$\begin{aligned} (x - x_0) \frac{\partial f}{\partial x}(x_0, y_0) + (y - y_0) \frac{\partial f}{\partial y}(x_0, y_0) - (z - z_0) &= 0 \\ (x - 3) \frac{\partial f}{\partial x}(3, -1) + (y + 1) \frac{\partial f}{\partial y}(3, -1) - (z - 10) &= 0 \\ 2x - y - 7 - (z - 10) &= 0 \\ 2x - y - z + 3 &= 0 \end{aligned}$$

Exercice 7 – $f(x, y) = (x^2 + 1)y + (x + y)(x + 1) \sin(y^2 + xy - 6)$

1. $\frac{\partial f}{\partial x} = 2xy + (2x + y + 1) \sin(y^2 + xy - 6) + y(x + y)(x + 1) \cos(y^2 + xy - 6)$
 $\frac{\partial f}{\partial y} = (x^2 + 1) + (x + 1) \sin(y^2 + xy - 6) + (2y + x)(x + y)(x + 1) \cos(y^2 + xy - 6)$
2. $\overrightarrow{\text{grad}}f(1, 2) = 16\vec{i} + 32\vec{j}$
3. $f(1, 2) = 4$. Donc l'équation est: $16(x - 1) + 32(y - 2) - (z - 4) = 0$, i.e. $16x + 32y - z = 76$

Exercice 8 – $f(x, y) = e^{x^2 + y^2 - 2y}$

1. $\frac{\partial f}{\partial x} = 2xe^{x^2 + y^2 - 2y}$
 $\frac{\partial f}{\partial y} = 2(y - 1)e^{x^2 + y^2 - 2y}$
2. $\overrightarrow{\text{grad}}f(0, 0) = -2\vec{j}$
3. $L_1 = \{(x, y) \in \mathbb{R}^2 | f(x, y) = 1\} = \{(x, y) \in \mathbb{R}^2 | x^2 + y^2 - 2y = 0\} = \{(x, y) \in \mathbb{R}^2 | x^2 + (y - 1)^2 = 1\}$.
 Donc c'est le cercle de rayon 1 et ayant pour centre $(0, 1)$. Sa tangente en $(0, 0)$ est donc orthogonale au rayon, qui est suivant \vec{j} (cohérent avec la question précédente). Elle a pour équation: $y = 0$.

Exercice 9 – $f(x, y) = (x^2 + y^2) \sin(\frac{1}{x^2 + y^2})$

1. $\frac{\partial f}{\partial x} = 2x \sin(\frac{1}{x^2 + y^2}) + \frac{-2x}{x^2 + y^2} \cos(\frac{1}{x^2 + y^2})$
 $\frac{\partial f}{\partial y} = 2y \sin(\frac{1}{x^2 + y^2}) + \frac{-2y}{x^2 + y^2} \cos(\frac{1}{x^2 + y^2})$
 $\overrightarrow{\text{grad}}f(x_0, y_0) = (2x_0 \sin(\frac{1}{x_0^2 + y_0^2}) + \frac{-2x_0}{x_0^2 + y_0^2} \cos(\frac{1}{x_0^2 + y_0^2}))\vec{i} + (2y_0 \sin(\frac{1}{x_0^2 + y_0^2}) + \frac{-2y_0}{x_0^2 + y_0^2} \cos(\frac{1}{x_0^2 + y_0^2}))\vec{j}$
2. $f(\frac{1}{\sqrt{\pi}}, \frac{1}{\sqrt{\pi}}) = \frac{2}{\pi} \sin(\frac{\pi}{2}) = \frac{2}{\pi}$
 La tangente en P a pour équation: $(x - \frac{1}{\sqrt{\pi}})\frac{2}{\sqrt{\pi}} + (y - \frac{1}{\sqrt{\pi}})\frac{2}{\sqrt{\pi}} = 0$ ie $x + y = \frac{2}{\sqrt{\pi}}$
3. La surface représentative en $(\frac{1}{\sqrt{\pi}}, \frac{1}{\sqrt{\pi}}, \frac{2}{\pi})$ a pour équation: $x + y - z = \frac{2}{\sqrt{\pi}}(1 - \frac{1}{\sqrt{\pi}})$

Exercice 10 – Soit $f_{x,y}(t) = x^2 t^2 + (x + y)t + 1$, $t \neq 0$, et $F(x, y) = \min t \in \mathbb{R} f_{x,y}(t)$. On veut calculer $F(x, y)$ et ses dérivées partielles. Pour trouver le minimum de $f_{x,y}(t)$, on peut appliquer la méthode générale de trouver les zéros de la dérivée $f_{x,y}(t)'$ et examiner lesquels sont minimaux ($f_{x,y}(t)' = 0$ et $f_{x,y}(t)'' > 0$):

$$f_{x,y}(t_0)' = 2x^2 t_0 + (x + y) = 0 \iff t_0 = -\frac{(x + y)}{2x^2}$$

Et,

$$f_{x,y}(t_0)'' = 2x^2 > 0 \text{ car } x \neq 0$$

Donc, on obtient: $F(x, y) = -\frac{x + y}{2x^2}$. On pouvait aussi dériver ce résultat plus facilement en exploitant un résultat bien connu sur les polynômes du second degré (car $f_{x,y}$ en est un). Ainsi, le minimum d'un polynôme du second degré $p(z) = az^2 + bz + c$ est en $-b/2a$ (on se place dans le cas $a > 0$, si $a < 0$, alors $-b/2a$ est un maximum).

Ce résultat peut être retrouvé par la méthode de la dérivée ou en remarquant qu'un polynôme du second degré est symétrique par rapport à son minimum ($p(z = z_{\min} + \delta z) = p(z' = z_{\min} - \delta z), \forall \delta z$), donnant pour $\delta x \neq 0$: $a(z_{\min} + \delta z)^2 + b(z_{\min} + \delta z) + c = a(z_{\min} - \delta z)^2 + b(z_{\min} - \delta z) + c \iff a(2\delta z)(2z_{\min}) + 2b\delta z = 0 \iff z_{\min} = -b/2a$.

Calculons maintenant les dérivées partielles de F :

$$\begin{aligned} \frac{\partial F}{\partial x}(x, y) &= -\frac{\partial\left(\frac{x+y}{2x^2}\right)}{\partial x}(x, y) & \frac{\partial F}{\partial y}(x, y) &= -\frac{\partial\left(\frac{x+y}{2x^2}\right)}{\partial y}(x, y) \\ \frac{\partial F}{\partial x}(x, y) &= -\frac{1}{2x^2}\frac{\partial(x+y)}{\partial x}(x, y) - \frac{x+y}{2}\frac{\partial\left(\frac{1}{x^2}\right)}{\partial x}(x, y) & \frac{\partial F}{\partial y}(x, y) &= -\frac{1}{2x^2}\frac{\partial(x+y)}{\partial y}(x, y) \\ \frac{\partial F}{\partial x}(x, y) &= -\frac{1}{2x^2} + \frac{(x+y)}{x^3} & \frac{\partial F}{\partial y}(x, y) &= -\frac{1}{2x^2} \end{aligned}$$

Les dérivées partielles de F indiquent comment bouge le minimum de la parabole si on change x et y .

Exercice 11 – On considère $F(x, y) = e^x + e^y + x + y - 2$ et $\phi : I \rightarrow \mathbb{R}$ une fonction deux fois dérivables où I est un intervalle ouvert contenant 0. On pose $h(x) = F(x, \phi(x))$.

1. Calculons $h'(x)$:

$$\begin{aligned} h'(x) &= (F(x, \phi(x)))' = \frac{\partial F(x, \phi(x))}{\partial x}x' + \frac{\partial F(x, \phi(x))}{\partial y}(\phi(x))' \\ h'(x) &= 1 + e^x + (1 + e^{\phi(x)})\phi(x)' \end{aligned}$$

Calculons $h''(x)$:

$$h''(x) = (h'(x))' = e^x + (1 + e^{\phi(x)})\phi(x)'' + e^{\phi(x)}(\phi(x)')^2$$

2. On suppose que ϕ vérifie: $e^x + e^{\phi(x)} + x + \phi(x) = 2$, pour tout $x \in I$. On remarque que, pour tout $x \in I$, $e^x + e^{\phi(x)} + x + \phi(x) = 2 = h(x) + 2$, donc $h(x) = 0$ et h est la fonction constante égale à 0 et donc, pour tout $x \in I$, $h'(x) = 0$ et $h''(x) = 0$.

En $x = 0$, on a alors:

$$\begin{cases} e^{\phi(0)} + \phi(0) = 1 & (1) (\iff h(0) = 0) \\ 2 + (1 + e^{\phi(0)})\phi(0)' = 0 & (2) (\iff h'(0) = 0) \\ 1 + (1 + e^{\phi(0)})\phi(0)'' + e^{\phi(0)}(\phi(0)')^2 = 0 & (3) (\iff h''(0) = 0) \end{cases}$$

(1) peut être réécrit comme $v(\phi(0)) = 1$ avec v la fonction $v(y) = e^y + y$. v est une fonction strictement croissante et continue donc v est monotone et pour x réel il existe un unique y réel tel que $v(y) = x$.

(1) donne alors $\phi(0) = 0$, trouvable par test ou en traçant les fonctions e^x et $1 - x$ et voir où elles s'intersectent et vérifier alors qu'en ce point x , $v(x) = 1$. On peut encore démontrer par l'absurde: si $\phi(0) > 0$, alors $e^{\phi(0)} > 1$ mais $1 - \phi(0) < 1$, donc $\phi(0) \leq 0$. Et si $\phi(0) < 0$, alors $e^{\phi(0)} < 1$ mais $= 1 - \phi(0) > 1$, donc on obtient $\phi(0) = 0$.

Cela mène à,

$$\begin{cases} \phi(0) = 0 & (1) \\ 2 + 2\phi(0)' = 0 & (2) \\ 1 + 2\phi(0)'' + (\phi(0)')^2 = 0 & (3) \end{cases}$$

$$\begin{cases} \phi(0) = 0 & (1) \\ \phi(0)' = -1 & (2) \\ 1 + 2\phi(0)'' + (\phi(0)')^2 = 0 & (3) \end{cases}$$

$$\begin{cases} \phi(0) = 0 & (1) \\ \phi(0)' = -1 & (2) \\ \phi(0)'' = -1 & (3) \end{cases}$$